

**UNIVERSIDADE FEDERAL DE CAMPINA GRANDE**

**CONCURSO PÚBLICO**

**CADERNO 2**



**CADERNO 2**

**DIA - 14/06/2009**

**CARGO: TÉCN. LAB./BIOLOGIA**

**UNIVERSIDADE FEDERAL DE CAMPINA GRANDE**

**CONCURSO PÚBLICO**

**GABARITO**

ESPECÍFICA	MATEMÁTICA	LEGISLAÇÃO	INFORMÁTICA	PORTUGUÊS
01-	16-	21-	31-	41-
02-	17-	22-	32-	42-
03-	18-	23-	33-	43-
04-	19-	24-	34-	44-
05-	20-	25-	35-	45-
06-		26-	36-	46-
07-		27-	37-	47-
08-		28-	38-	48-
09-		29-	39-	49-
10-		30-	40-	50-
11-				
12-				
13-				
14-				
15-				

CONHECIMENTOS ESPECÍFICOS

01 - O microscópio ótico é formado por um conjunto de peças móveis: sistema mecânico e sistema de iluminação. Com base nisso, relacione abaixo algumas dessas peças com as suas devidas funções:

- (I) Pé ou base ( ) é o regulador de intensidade luminosa.  
 (II) Charriot ( ) serve para segurar e movimentar a lâmina.  
 (III) Revólver ( ) serve para concentrar e fornecer luz adequada à iluminação do objeto em estudo.  
 (IV) Condensador ( ) serve para sustentar as lentes objetivas e permite intercambiá-las.  
 (V) Diafragma ( ) serve de suporte e confere estabilidade ao aparelho.

A sequência correta é:

- a) V, III, IV, II, I.      b) IV, II, III, I, V.      c) V, II, IV, III, I.      d) II, IV, V, III, I.      e) IV, II, III, V, I.

02 - Existem diversas técnicas para preparar lâminas. A escolha de uma delas depende tanto do tipo de material que se quer estudar como do tipo de estudo que se quer fazer. Baseado nesta afirmação, marque abaixo a alternativa INCORRETA:

- a) Esfregaço é uma técnica utilizada para o estudo de material constituído de células isoladas.  
 b) Esmagamento é uma técnica utilizada para o estudo de células pouco aderidas umas as outras.  
 c) A inclusão é o método mais comum para endurecer materiais biológicos.  
 d) O corte é a técnica utilizada quando o material que se quer estudar apresenta células firmemente aderidas entre si.  
 e) As estruturas das células animais são mais rígidas do que as células vegetais.

03 - Leia com atenção a descrição abaixo:

" Tecido formado por uma ou mais camadas celulares, sem vascularização, com pouquíssima substância intercelular, muitas estruturas de adesão das células, podendo ter função de absorção ou secreção." Esta descrição se refere a que tipo de tecido:

- a) Nervoso.      b) Adiposo.      c) Cartilaginoso.      d) Epitelial.      e) Muscular.

04 - No laboratório de microbiologia as culturas bacterianas em tubos de ensaio e placas de *Petri*, são encaminhadas para a sala de esterilização, onde passam por processos de descontaminação, lavagem, secagem, preparo e esterilização. O equipamento utilizado na etapa de descontaminação de tais vidrarias é:

- a) Banho fervente por 15 minutos.  
 b) Autoclave a 121°C por 30 minutos.  
 c) Incinerador elétrico a 600°C por 30 segundos.  
 d) Forno de Pasteur a 121°C por 30 minutos.  
 e) Estufa a 100°C por 20 minutos.

05 - Uma célula, em condições de laboratório, teve cortado seu suprimento de aminoácidos. De imediato, não mais poderão ser formados(as):

- a) Nucleotídeos.      b) Lipídeos.      c) Glicídeos.      d) Proteínas.      e) Polissacarídeos.

06 - Nos laboratórios existem os equipamentos de proteção, objetivando a prevenção de riscos e acidentes nas atividades de trabalho. São considerados equipamentos de proteção coletiva:

- a) Bota e capela.      b) Luva e chuva.      c) Lava-olhos e chuva.  
 d) Jaleco e extintores de incêndio.      e) Pipetas automáticas e óculos.

**07** - A Biossegurança corresponde ao conjunto de estudos e procedimentos que visam evitar e controlar os eventuais problemas suscitados por pesquisas biológicas e/ou por suas aplicações. Sobre estes procedimentos, analise os itens abaixo:

- I) É necessário o uso de capela de exaustão sempre que forem manipulados solventes orgânicos e ácidos.
- II) Todo material biológico de m laboratório de microbiologia deve ser esterilizado antes de ser descartado.
- III) *Escherichia coli*, ácido sulfúrico e radiação ultravioleta são exemplos de agentes de risco biológico, químico e físico.

Está(ão) correta(s) a(s) afirmativa(s):

- a) I e II.
- b) II e III.
- c) I e III.
- d) I.
- e) I, II e III.

**08** - Os equipamentos em um laboratório devem ser corretamente utilizados. Neste sentido, relacione a coluna da esquerda com a da direita, de acordo com o equipamento e sua função.

- 1 - Destilador.                    ( ) Esterilizar por calor úmido
- 2 - Balança analítica.        ( ) Esterilizar por calor seco
- 3 - Forno de Pasteur.        ( ) Fazer pesagem com maior precisão
- 4 - Autoclave.                ( ) Retirar sais de cálcio e magnésio presentes na água, com o objetivo de evitar corrosão nas tubulações industriais.

A seqüência correta é

- a) 3, 4, 1 e 2.
- b) 4, 3, 1 e 2.
- c) 1, 2, 3, e 4.
- d) 4, 3, 2, e 1.
- e) 4, 1, 2, e 3.

**09** - Os tecidos mais abundantes nas plantas são constituídos por células vivas, com paredes relativamente finas e que podem desempenhar funções como: fotossíntese, armazenar reservas nutritivas etc. Esses tecidos são chamados de

- a) parênquimas.
- b) colênquimas.
- c) esclerênquimas.
- d) felodermas
- e) xilema.

**10** - Um pesquisador estudou a célula de um organismo, verificando a ausência de compartimentos membranosos, até mesmo no núcleo. Com base nessas observações, ele poderá concluir que a célula pertence a um(uma)

- a) fungo.
- b) animal.
- c) planta.
- d) bactéria.
- e) vírus.

**11** - Os seres vivos são classificados em vários grupos de acordo com as suas semelhanças e diferenças. Se reunirmos as famílias *Canidae* (cães), *Ursidae* (ursos), *Hyaenidae* (hienas) e *Felidae* (leões), veremos que todos são carnívoros, portanto, pertencem à(ao) mesma(o):

- a) Espécie.
- b) Ordem.
- c) Subespécie.
- d) Família.
- e) Gênero.

**12** - Para que a classificação biológica fosse uniforme, foi convencionada uma série de regras que devem ser seguidas por todos os cientistas. São as Regras Internacionais de Nomenclatura Biológica. Marque a alternativa que NÃO está de acordo com essas regras.

- a) Todos os nomes científicos devem ser escritos em latim.
- b) Os termos que indicam de gênero até reino devem ter inicial maiúscula.
- c) O gênero pode ser ou não sublinhado ou escrito em itálico.
- d) O nome das espécies é binominal e escrito em itálico ou sublinhado.
- e) No sistema de classificação, têm prioridade os nomes apresentados em primeiro lugar. Assim, se um pesquisador descrever um animal já classificado, prevalecerá o nome inicial.

**13** - "Existem quatro grupos de tecidos cujos critérios de classificação são basicamente: o tipo de célula, o tipo e disposição das fibras e quantidade e composição química da substância fundamental que preenche os espaços entre as células." Baseado nessa informação, relacione abaixo os tipos de tecidos a suas principais características:

- I - Tecido epitelial            ( ) Células alongadas com capacidade de contração.
- II - Tecido conjuntivo        ( ) Células com longas ramificações que transmitem os impulsos.
- III - Tecido muscular        ( ) Células justapostas, unidas por uma fina camada cimentante.
- IV - Tecido nervoso         ( ) Substância fundamental intercelular de consistência gelatinosa onde as fibras se distribuem.

A alternativa correta é:

- a) II, I , III, IV.
- b) III, IV, I, II.
- c) III, I, IV, II.
- d) II, IV, I, III.
- e) IV, II, I, III.

**14** - Os carboidratos, que compreendem os açúcares, são substâncias fundamentais para a vida. Assinale a alternativa em que todos os açúcares relacionados possam estar no tubo digestório como no sangue de um mamífero:

- a) Frutose, galactose, glicose.
- b) Frutose, glicose, sacarose.
- c) Maltose, sacarose, celulose.
- d) Pentose, lactose, glicose.
- e) Pentose, lactose, sacarose.

**15** - Os platelmintos são responsáveis por diversas parasitoses humanas, constituindo um problema de saúde pública em escala mundial, principalmente em locais pobres, com falta de saneamento básico. Marque a alternativa abaixo que indica as doenças causadas por platelmintos:

- a) Esquistossomose, Teníase e Ascaridíase.
- b) Ascaridíase, Cisticercose e Amarelão.
- c) Oxiurose, Esquistossomose e Teníase.
- d) Teníase, Esquistossomose e Cisticercose.
- e) Cisticercose, Oxiurose e Teníase.

## MATEMÁTICA

16 - Em uma locadora de veículos, sabe-se que a média aritmética de locação durante os meses de janeiro, fevereiro, março e abril foi de 100 carros. Se nos meses de janeiro, fevereiro e abril a média aritmética de locação foi de 120 carros, quantos carros foram locados no mês de março?

- a) 40.
- b) 20.
- c) 80.
- d) 30.
- e) 55.

17 - Antes de colocar uma roupa na vitrine de uma loja, o vendedor Mala Kias aumentou o preço da roupa em 15%. Maria, com uma boa conversa, conseguiu um desconto de 10% no preço da roupa da vitrine. Enfim, pelo preço da roupa que Maria comprou, quanto ficou o aumento da roupa sobre o preço original, antes de ir para vitrine?

- a) 6%.
- b) 1,5%.
- c) 1/5%.
- d) 5%.
- e) 3,5%

18 - Cinco professores corrigem 5.000 provas em quatro dias. No mesmo ritmo de trabalho, se o número de provas aumentar em 5%, quantos professores serão necessários para corrigir esse novo número de provas em três dias?

- a) 12.
- b) 7.
- c) 13.
- d) 5.
- e) 15.

19 - Três amigos resolvem produzir óleo de mamona. Para isso abrem uma empresa com um capital inicial de R\$ 5.000,00. Um deles investiu R\$ 2.500,00 na empresa e outro R\$ 1.250,00. Eles produziram óleo que enche um tanque de  $2^3 \times 10^6$  cm<sup>3</sup> de volume. Como deve ser a partilha desse volume de óleo de mamona, em m<sup>3</sup>, proporcionalmente ao investimento de cada um dos amigos na empresa?

- a) 4m<sup>3</sup>, 1m<sup>3</sup> e 3m<sup>3</sup>
- b) 5m<sup>3</sup>; 1,5m<sup>3</sup> e 1,5m<sup>3</sup>
- c) 4m<sup>3</sup>, 2m<sup>3</sup> e 2m<sup>3</sup>
- d) 4m<sup>3</sup>, 1m<sup>3</sup> e 1m<sup>3</sup>
- e) 7m<sup>3</sup>; 0,5m<sup>3</sup> e 2m<sup>3</sup>

20 - Usando o sistema de juros simples, Capitu aplicou R\$ 1.000,00 à taxa de 2% ao mês, durante 3 meses. No final deste período, Capitu fez uma retirada de R\$ 400,00 e aplicou o restante, ainda no sistema de juros simples, à taxa de 3% ao mês, durante 2 meses. Qual o montante obtido por Capitu ao final desses 5 meses?

- a) R\$ 596,60.
- b) R\$ 686,40.
- c) R\$ 636,90.
- d) R\$ 699,60.
- e) R\$ 669,90.

LEGISLAÇÃO

- 21** - No que tange a concessão de licença à servidora gestante, segundo a lei 8.112/90, assinale a alternativa INCORRETA:
- a) Será concedida à servidora gestante licença por 120 dias consecutivos, sem prejuízo da sua remuneração.
  - b) A licença poderá ter início no primeiro dia do nono mês de gestação, salvo antecipação por prescrição médica.
  - c) No caso de nascimento prematuro, a licença terá início a partir do dia do parto.
  - d) No caso de natimorto, decorridos 30 dias do evento, a servidora será submetida a exame médico e, se julgada apta, reassumirá o exercício.
  - e) No caso de aborto atestado por médico oficial, a servidora terá direito a 20 dias de repouso remunerado.

- 22** - A exoneração de cargo efetivo poderá ocorrer mediante:

- a) Aposentadoria.
- b) Readaptação.
- c) Recondição.
- d) Pedido do servidor ou de ofício.
- e) Sentença judicial.

- 23** - As penalidades de advertência e de suspensão terão seus registros cancelados, após o decurso de:

- a) 2 (dois) e 3 (três) anos de efetivo exercício, respectivamente, se o servidor não houver, nesse período, praticado nova infração disciplinar.
- b) 3 (três) e 5 (cinco) anos de efetivo exercício, respectivamente, se o servidor não houver, nesse período, praticado nova infração disciplinar.
- c) 1 (hum) e 3 (três) anos de efetivo exercício, respectivamente, se o servidor não houver, nesse período, praticado nova infração disciplinar.
- d) 2 (dois) e 5 (cinco) anos de efetivo exercício, respectivamente, se o servidor não houver, nesse período, praticado nova infração disciplinar.
- e) 3 (três) e 6 (seis) anos de efetivo exercício, respectivamente, se o servidor não houver, nesse período, praticado nova infração disciplinar.

- 24** - Dentre as alternativas abaixo, assinale a que NÃO corresponde a formas de provimento de cargo público:

- a) Nomeação.
- b) Promoção.
- c) Ascensão.
- d) Readaptação.
- e) Reversão.

- 25** - A investidura do servidor em cargo de atribuições e responsabilidades compatíveis com a limitação que tenha sofrido em sua capacidade física ou mental verificada em inspeção médica representa

- a) reintegração.
- b) readaptação.
- c) aproveitamento.
- d) redistribuição.
- e) reversão.

**26** - O retorno à atividade de servidor aposentado configura

- a) reintegração.
- b) reversão.
- c) aproveitamento.
- d) redistribuição.
- e) readaptação.

**27** - O retorno do servidor estável ao cargo anteriormente ocupado em decorrência de inabilitação em estágio probatório em outro cargo, representa caso de:

- a) reintegração.
- b) readaptação.
- c) aproveitamento.
- d) recondução.
- e) redistribuição.

**28** - O servidor que fizer jus à Progressão por Capacitação Profissional será posicionado em:

- a) nível de capacitação anterior, no mesmo nível de classificação, em padrão de vencimento na mesma posição relativa à que ocupava anteriormente, mantida a distância entre o padrão que ocupava e o padrão inicial do novo nível de capacitação.
- b) nível de capacitação subsequente, no mesmo nível de classificação, em padrão de vencimento na mesma posição relativa à que ocupava anteriormente, mantida a distância entre o padrão que ocupava e o padrão inicial do novo nível de capacitação.
- c) nível de capacitação anterior, em outro nível de classificação, com diferente padrão de vencimento que ocupava, mantida a distância entre o padrão que ocupava e o padrão inicial do novo nível de capacitação.
- d) nível de capacitação subsequente, em outro nível de classificação, com padrão de vencimento na mesma posição relativa à que ocupava anteriormente, mantida a distância entre o padrão que ocupava e o padrão inicial do novo nível de capacitação.
- e) nível de capacitação anterior, em outro nível de classificação, com mesmo padrão de vencimento que ocupava, mantida a distância entre o padrão que ocupava e o padrão inicial do novo nível de capacitação.

**29** - A respeito da organização do quadro de pessoal marque a alternativa INCORRETA:

- a) Tem que seguir o princípio de dinâmica dos processos de pesquisa, de ensino, de extensão e de administração, e as competências específicas decorrentes.
- b) Está vinculado ao planejamento estratégico e ao desenvolvimento organizacional das instituições.
- c) impõe o direito à livre associação sindical.
- d) Representa garantia de programas de capacitação que contemplem a formação específica e a geral, nesta incluída a educação formal.
- e) Exige avaliação do desempenho funcional dos servidores, como processo pedagógico, realizada mediante critérios objetivos decorrentes das metas institucionais, referenciada no caráter coletivo do trabalho e nas expectativas dos usuários.

**30** - Nos termos do Decreto 1.171/94, em todos os órgãos e entidades da Administração Pública Federal direta, indireta autárquica e fundacional, ou em qualquer órgão ou entidade que exerça atribuições delegadas pelo poder público, deverá ser criada uma Comissão de Ética que terá diversas atribuições. Veja abaixo qual das alternativas não compreende atribuição dessa comissão:

- a) Orientar e aconselhar sobre a ética profissional do servidor, no tratamento com as pessoas e com o patrimônio público, competindo-lhe conhecer concretamente de imputação ou de procedimento susceptível de censura.
- b) Fornecer, aos organismos encarregados da execução do quadro de carreira dos servidores, os registros sobre sua conduta ética, para o efeito de instruir e fundamentar promoções e para todos os demais procedimentos próprios da carreira do servidor público.
- c) Aplicar pena de censura a servidor público.
- d) Aplicar pena de suspensão a servidor público.
- e) Comunicar imediatamente a seus superiores todo e qualquer ato ou fato contrário ao interesse público



NOÇÕES DE INFORMÁTICA

31 - No *Microsoft Office Excel*, na versão em língua portuguesa, a função SE possui quantos argumentos?

- a) 0.
- b) 1.
- c) 2.
- d) 3.
- e) 4.

32 - Analise as seguintes afirmações sobre sistemas operacionais e assinale as corretas.

- I) Uma das principais características de um sistema operacional é a tolerância a falhas.
- II) Um sistema operacional fornece rotinas básicas para controle de dispositivos.
- III) Sistema operacional é responsável pela gerência, escalonamento e interação de tarefas.
- IV) DOS, *Windows* e *Linux* são exemplos de sistemas operacionais.

Assinale a alternativa correta.

- a) I e III.
- b) II e IV.
- c) II, III e IV.
- d) I, II e IV.
- e) I, II, III e IV.

33 - São termos relacionados à segurança de informação de sistemas, com EXCEÇÃO de:

- a) Assinatura digital.
- b) Criptografia.
- c) *Firewall*.
- d) *Backup*.
- e) *Thread*.

34 - ISA, AGP, PCI e PCI *Express* são exemplos de:

- a) *Drivers*.
- b) Barramentos.
- c) Dispositivos de E/S.
- d) Partes de um sistema operacional.
- e) Protocolos de rede de computadores.

35 - Em geral, a *BIOS* é armazenada num *chip* do tipo memória *ROM* localizado na:


- a) Placa de vídeo.
- b) Placa-mãe.
- c) Memória cache.
- d) Unidade de E/S.
- e) ULA.

36 – Observe na figura abaixo um trecho de um texto digitado no *Microsoft Word*, na versão em língua portuguesa.

poluição

O formato aplicado sobre a palavra *poluição* para que uma linha fosse desenhada sobre a mesma foi:

- a) Itálico.
- b) Sobrescrito.
- c) Subscrito.
- d) Tachado.
- e) Negrito.



37 - No *Microsoft Word*, na versão em língua portuguesa, a sequência de botões  permite, respectivamente:

- a) Alinhar texto à esquerda, centralizar texto e alinhar texto à direita.
- b) Remover texto da esquerda, remover texto central e remover texto da direita.
- c) Contar palavras à esquerda, contar palavras centralizadas e contar palavras à direita.
- d) Imprimir texto à esquerda, imprimir texto centralizado e imprimir texto à direita.
- e) Sublinhar texto à esquerda, sublinhar texto centralizado e sublinhar texto à direita.

37 – Trata-se de um arquivo salvo pelo *Microsoft PowerPoint*, na versão em língua portuguesa, de 2007:

- a) Arquivo.doc
- b) Arquivo.xls
- c) Arquivo.pptx
- d) Arquivo.exe
- e) Arquivo.java

39 – Sobre o *Microsoft PowerPoint*, na versão em língua portuguesa, de 2007, analise as alternativas a seguir observando seus aspectos de verdade ou falsidade.

- I) A tecla de atalho SHIFT + F5 permite iniciar a apresentação a partir do slide atual.
- II) Ao se clicar no botão  , um novo slide é inserido.
- III) É possível animar *hyperlinks*, textos, objetos e elementos gráficos.
- IV) Ao se clicar no botão  , inicia-se a apresentação a partir do primeiro *slide*.

Assinale a alternativa correta:

- a) I, II e III são verdadeiras.
- b) I, II e IV são verdadeiras.
- c) I, III e IV são verdadeiras.
- d) Todas as afirmativas são falsas.
- e) Todas as afirmativas são verdadeiras.

40 – *Google* é uma ferramenta de busca na *internet* que ajuda o usuário a encontrar o que deseja na *Web*. O *Google* oferece diversos tipos de filtros de busca. Para realizar uma busca pela palavra *vestibular* apenas no sítio da UFCG ([www.ufcg.edu.br](http://www.ufcg.edu.br)) é necessário digitar no espaço de busca por palavras-chave do *Google*:

- a) `vestibular url:www.ufcg.edu.br`
- b) `vestibular filetype:www.ufcg.edu.br`
- c) `vestibular googlesite: www.ufcg.edu.br`
- d) `vestibular site:www.ufcg.edu.br`
- e) `vestibular sitio:www.ufcg.edu.br`

## PORTUGUÊS

Um em cada 5 servidores já cobrou propina, diz pesquisa

Pesquisa da UnB, encomendada pela Comissão de Ética da Presidência, mostrou que só 51,3% dos servidores se consideram éticos.

Um em cada cinco funcionários públicos (22,5%) admite que já descumpriu a lei. Uma proporção semelhante (18,1%) confessa que já cobrou propina para atender a uma reivindicação legítima do cidadão. Apenas 51,3% se consideram éticos e 11,9% veem a profissão que exercem “com desprezo”. Os resultados fazem parte de pesquisa feita pela Universidade de Brasília (UnB), a pedido da Comissão de Ética da Presidência da República, sobre a conduta da sociedade civil em geral e do servidor em particular.

Para o coordenador da pesquisa, Ricardo Caldas, da Faculdade de Ciência Política da UnB, a conclusão é desanimadora: os servidores, embora em menor grau, refletem o comportamento da sociedade, em boa parte tolerante com a corrupção, adepta do “jeitinho brasileiro” e pouco preocupada com ética e rigor nos gastos públicos.

O levantamento sobre padrão ético mostra a má imagem que o servidor faz da categoria. Mais de um quarto dos entrevistados (26,7%) diz que a categoria não está voltada para o interesse público e 55,7% consideram os funcionários “amadores” ou “semiprofissionais”.

Outro dado destacado por Caldas, que defende o fim dos cargos comissionados – preenchidos sem concurso público -, é que 36,8% chegaram ao funcionalismo por indicação de amigos, parentes ou contatos políticos. Menos da metade (47%) acredita que os servidores são qualificados para a função.

A pesquisa foi feita em duas etapas. Na primeira, feita de março a abril, foram ouvidas 2 mil pessoas da sociedade civil, em todos os Estados. Na segunda, foram ouvidos 1.027 funcionários públicos federais, estaduais e municipais em seis Estados: Rio de Janeiro, São Paulo, Paraná, Minas Gerais, Pará, Paraíba e Distrito Federal.

(Disponível em [www.g1.globo.com](http://www.g1.globo.com). Publicado em 09 de novembro de 2008. Acesso em 25 de março de 2009)

41 - A frase que substitui adequadamente o sentido do título do texto é:

- a) Os resultados fazem parte de pesquisa feita pela Universidade de Brasília (UnB).
- b) Um em cada cinco funcionários públicos (22,5%) admite que já descumpriu a lei.
- c) Apenas 51,3% se consideram éticos e 11,9% veem a profissão que exercem “com desprezo”.
- d) Menos da metade (47%) acredita que os servidores são qualificados para a função.
- e) Uma proporção semelhante (18,1%) confessa que já cobrou propina para atender a uma reivindicação legítima do cidadão.

42 - As vírgulas no subtítulo da reportagem têm como função

- a) destacar um argumento.
- b) acrescentar dados da pesquisa.
- c) intercalar uma informação.
- d) apresentar um exemplo.
- e) intercalar uma opinião.

43 - Os dados da pesquisa referem-se

- a) apenas aos servidores públicos federais.
- b) apenas aos servidores públicos estaduais.
- c) aos servidores estaduais e sociedade civil.
- d) à sociedade civil e aos servidores públicos.
- e) aos servidores estaduais e municipais.

44 - Os resultados da pesquisa mostram

- a) a tolerância de servidores e cidadãos com a corrupção.
- b) o desinteresse da maioria dos servidores públicos.
- c) o despreparo de todos os servidores públicos.
- d) o gasto público praticado pelos servidores públicos.
- e) a corrupção praticada pela sociedade civil.

45 - As formas verbais *diz* e *consideram* (3º §) relacionam-se, respectivamente, com

- a) entrevistados e 55,7%.
- b) mais de um quarto e servidor.
- c) mais de um quarto e 55,7%.
- d) categoria e entrevistados.
- e) mais de um quarto e entrevistados.

46 - As expressões *jeitinho brasileiro*, *amadores* e *semiprofissionais*, em destaque no texto, representam uma opinião sobre

- a) a formação profissional dos servidores.
- b) o atendimento à sociedade civil.
- c) a corrupção praticada pela sociedade civil.
- d) o pagamento de propinas aos servidores.
- e) a atuação profissional dos servidores públicos.

47 - O uso de dois pontos, no texto (2º§ e último §), tem como função encadear

- a) uma conclusão e uma discriminação.
- b) uma conclusão e uma explicação.
- c) uma explicação e um fato.
- d) um fato e uma conclusão.
- e) uma conclusão e um dado.

48 - O uso de *para*, no 2º §, serve para introduzir um(a)

- a) argumento contrário à ideia geral do texto.
- b) opinião dos autores da reportagem.
- c) opinião da coordenação da pesquisa.
- d) defesa dos fatos apresentados na reportagem.
- e) os resultados alcançados com a pesquisa.

49 - A expressão *Outro dado*, no 4º §, remete, no texto, a

- a) baixa qualificação profissional dos servidores.
- b) preenchimento de cargos públicos sem concurso.
- c) contratação de funcionários por concurso público.
- d) fim do preenchimento de cargos comissionados.
- e) qualificação de servidores em cargos comissionados.

50 - A ideia contida no uso, no texto, da palavra *legítima* se opõe a

- a) cumprimento da lei pela sociedade civil.
- b) ética dos servidores públicos federais.
- c) compromisso dos servidores públicos.
- d) cobrança de propina pelos servidores.
- e) ética e rigor nos gastos públicos.

TÉC. LABORATÓRIO  
BIOLOGIA

TÉC. LABORATÓRIO  
BIOLOGIA