

**UNIVERSIDADE FEDERAL DE CAMPINA GRANDE**

**CONCURSO PÚBLICO**

**CADERNO 1**



**CADERNO 1**

**DIA - 14/06/2009**

**CARGO: TÉCNICO EM CONTABILIDADE**

**UNIVERSIDADE FEDERAL DE CAMPINA GRANDE**

**CONCURSO PÚBLICO**

**GABARITO**

<b>PORTUGUÊS</b>	<b>INFORMÁTICA</b>	<b>LEGISLAÇÃO</b>	<b>MATEMÁTICA</b>	<b>ESPECÍFICA</b>
01-	11-	21-	31-	36-
02-	12-	22-	32-	37-
03-	13-	23-	33-	38-
04-	14-	24-	34-	39-
05-	15-	25-	35-	40-
06-	16-	26-		41-
07-	17-	27-		42-
08-	18-	28-		43-
09-	19-	29-		44-
10-	20-	30-		45-
				46-
				47-
				48-
				49-
				50-

## PORTUGUÊS

Um em cada 5 servidores já cobrou propina, diz pesquisa

Pesquisa da UnB, encomendada pela Comissão de Ética da Presidência, mostrou que só 51,3% dos servidores se consideram éticos.

Um em cada cinco funcionários públicos (22,5%) admite que já descumpriu a lei. Uma proporção semelhante (18,1%) confessa que já cobrou propina para atender a uma reivindicação legítima do cidadão. Apenas 51,3% se consideram éticos e 11,9% veem a profissão que exercem “com desprezo”. Os resultados fazem parte de pesquisa feita pela Universidade de Brasília (UnB), a pedido da Comissão de Ética da Presidência da República, sobre a conduta da sociedade civil em geral e do servidor em particular.

Para o coordenador da pesquisa, Ricardo Caldas, da Faculdade de Ciência Política da UnB, a conclusão é desanimadora: os servidores, embora em menor grau, refletem o comportamento da sociedade, em boa parte tolerante com a corrupção, adepta do “jeitinho brasileiro” e pouco preocupada com ética e rigor nos gastos públicos.

O levantamento sobre padrão ético mostra a má imagem que o servidor faz da categoria. Mais de um quarto dos entrevistados (26,7%) diz que a categoria não está voltada para o interesse público e 55,7% consideram os funcionários “amadores” ou “semiprofissionais”.

Outro dado destacado por Caldas, que defende o fim dos cargos comissionados – preenchidos sem concurso público -, é que 36,8% chegaram ao funcionalismo por indicação de amigos, parentes ou contatos políticos. Menos da metade (47%) acredita que os servidores são qualificados para a função.

A pesquisa foi feita em duas etapas. Na primeira, feita de março a abril, foram ouvidas 2 mil pessoas da sociedade civil, em todos os Estados. Na segunda, foram ouvidos 1.027 funcionários públicos federais, estaduais e municipais em seis Estados: Rio de Janeiro, São Paulo, Paraná, Minas Gerais, Pará, Paraíba e Distrito Federal.

(Disponível em [www.g1.globo.com](http://www.g1.globo.com). Publicado em 09 de novembro de 2008. Acesso em 25 de março de 2009)

**01** - A frase que substitui adequadamente o sentido do título do texto é:

- a) Os resultados fazem parte de pesquisa feita pela Universidade de Brasília (UnB).
- b) Um em cada cinco funcionários públicos (22,5%) admite que já descumpriu a lei.
- c) Apenas 51,3% se consideram éticos e 11,9% veem a profissão que exercem “com desprezo”.
- d) Menos da metade (47%) acredita que os servidores são qualificados para a função.
- e) Uma proporção semelhante (18,1%) confessa que já cobrou propina para atender a uma reivindicação legítima do cidadão.

**02** - As vírgulas no subtítulo da reportagem têm como função

- a) destacar um argumento.
- b) acrescentar dados da pesquisa.
- c) intercalar uma informação.
- d) apresentar um exemplo.
- e) intercalar uma opinião.

**03** - Os dados da pesquisa referem-se

- a) apenas aos servidores públicos federais.
- b) apenas aos servidores públicos estaduais.
- c) aos servidores estaduais e sociedade civil.
- d) à sociedade civil e aos servidores públicos.
- e) aos servidores estaduais e municipais.

04 - Os resultados da pesquisa mostram

- a) a tolerância de servidores e cidadãos com a corrupção.
- b) o desinteresse da maioria dos servidores públicos.
- c) o despreparo de todos os servidores públicos.
- d) o gasto público praticado pelos servidores públicos.
- e) a corrupção praticada pela sociedade civil.

05 - As formas verbais *diz* e *consideram* (3º §) relacionam-se, respectivamente, com

- a) entrevistados e 55,7%.
- b) mais de um quarto e servidor.
- c) mais de um quarto e 55,7%.
- d) categoria e entrevistados.
- e) mais de um quarto e entrevistados.

06 - As expressões *jeitinho brasileiro*, *amadores* e *semiprofissionais*, em destaque no texto, representam uma opinião sobre

- a) a formação profissional dos servidores.
- b) o atendimento à sociedade civil.
- c) a corrupção praticada pela sociedade civil.
- d) o pagamento de propinas aos servidores.
- e) a atuação profissional dos servidores públicos.

07 - O uso de dois pontos, no texto (2º§ e último §), tem como função encadear

- a) uma conclusão e uma discriminação.
- b) uma conclusão e uma explicação.
- c) uma explicação e um fato.
- d) um fato e uma conclusão.
- e) uma conclusão e um dado.

08 - O uso de *para*, no 2º §, serve para introduzir um(a)

- a) argumento contrário à ideia geral do texto.
- b) opinião dos autores da reportagem.
- c) opinião da coordenação da pesquisa.
- d) defesa dos fatos apresentados na reportagem.
- e) os resultados alcançados com a pesquisa.

09 - A expressão *Outro dado*, no 4º §, remete, no texto, a

- a) baixa qualificação profissional dos servidores.
- b) preenchimento de cargos públicos sem concurso.
- c) contratação de funcionários por concurso público.
- d) fim do preenchimento de cargos comissionados.
- e) qualificação de servidores em cargos comissionados.

10 - A ideia contida no uso, no texto, da palavra *legítima* se opõe a

- a) cumprimento da lei pela sociedade civil.
- b) ética dos servidores públicos federais.
- c) compromisso dos servidores públicos.
- d) cobrança de propina pelos servidores.
- e) ética e rigor nos gastos públicos.

NOÇÕES DE INFORMÁTICA

11 - No *Microsoft Office Excel*, na versão em língua portuguesa, a função SE possui quantos argumentos?

- a) 0.
- b) 1.
- c) 2.
- d) 3.
- e) 4.

12 - Analise as seguintes afirmações sobre sistemas operacionais e assinale as corretas.

- I) Uma das principais características de um sistema operacional é a tolerância a falhas.
- II) Um sistema operacional fornece rotinas básicas para controle de dispositivos.
- III) Sistema operacional é responsável pela gerência, escalonamento e interação de tarefas.
- IV) DOS, *Windows* e *Linux* são exemplos de sistemas operacionais.

Assinale a alternativa correta.

- a) I e III.
- b) II e IV.
- c) II, III e IV.
- d) I, II e IV.
- e) I, II, III e IV.

13 - São termos relacionados à segurança de informação de sistemas, com EXCEÇÃO de:

- a) Assinatura digital.
- b) Criptografia.
- c) *Firewall*.
- d) *Backup*.
- e) *Thread*.

14 - ISA, AGP, PCI e PCI *Express* são exemplos de:

- a) *Drivers*.
- b) Barramentos.
- c) Dispositivos de E/S.
- d) Partes de um sistema operacional.
- e) Protocolos de rede de computadores.

15 - Em geral, a *BIOS* é armazenada num *chip* do tipo memória *ROM* localizado na:


- a) Placa de vídeo.
- b) Placa-mãe.
- c) Memória cache.
- d) Unidade de E/S.
- e) ULA.

16 – Observe na figura abaixo um trecho de um texto digitado no *Microsoft Word*, na versão em língua portuguesa.

poluição

O formato aplicado sobre a palavra *poluição* para que uma linha fosse desenhada sobre a mesma foi:

- a) Itálico.
- b) Sobrescrito.
- c) Subescrito.
- d) Tachado.
- e) Negrito.



17 - No *Microsoft Word*, na versão em língua portuguesa, a sequência de botões  permite, respectivamente:

- a) Alinhar texto à esquerda, centralizar texto e alinhar texto à direita.
- b) Remover texto da esquerda, remover texto central e remover texto da direita.
- c) Contar palavras à esquerda, contar palavras centralizadas e contar palavras à direita.
- d) Imprimir texto à esquerda, imprimir texto centralizado e imprimir texto à direita.
- e) Sublinhar texto à esquerda, sublinhar texto centralizado e sublinhar texto à direita.

18 – Trata-se de um arquivo salvo pelo *Microsoft PowerPoint*, na versão em língua portuguesa, de 2007:

- a) Arquivo.doc
- b) Arquivo.xls
- c) Arquivo.pptx
- d) Arquivo.exe
- e) Arquivo.java

19 – Sobre o *Microsoft PowerPoint*, na versão em língua portuguesa, de 2007, analise as alternativas a seguir observando seus aspectos de verdade ou falsidade.

- I) A tecla de atalho SHIFT + F5 permite iniciar a apresentação a partir do slide atual.
- II) Ao se clicar no botão  , um novo slide é inserido.
- III) É possível animar *hyperlinks*, textos, objetos e elementos gráficos.
- IV) Ao se clicar no botão  , inicia-se a apresentação a partir do primeiro *slide*.

Assinale a alternativa correta:

- a) I, II e III são verdadeiras.
- b) I, II e IV são verdadeiras.
- c) I, III e IV são verdadeiras.
- d) Todas as afirmativas são falsas.
- e) Todas as afirmativas são verdadeiras.

20 – *Google* é uma ferramenta de busca na *internet* que ajuda o usuário a encontrar o que deseja na *Web*. O *Google* oferece diversos tipos de filtros de busca. Para realizar uma busca pela palavra *vestibular* apenas no sítio da UFCG ([www.ufcg.edu.br](http://www.ufcg.edu.br)) é necessário digitar no espaço de busca por palavras-chave do *Google*:

- a) `vestibular url:www.ufcg.edu.br`
- b) `vestibular filetype:www.ufcg.edu.br`
- c) `vestibular googlesite: www.ufcg.edu.br`
- d) `vestibular site:www.ufcg.edu.br`
- e) `vestibular sitio:www.ufcg.edu.br`

LEGISLAÇÃO

21 - No que tange a concessão de licença à servidora gestante, segundo a lei 8.112/90, assinale a alternativa INCORRETA:

- a) Será concedida à servidora gestante licença por 120 dias consecutivos, sem prejuízo da sua remuneração.
- b) A licença poderá ter início no primeiro dia do nono mês de gestação, salvo antecipação por prescrição médica.
- c) No caso de nascimento prematuro, a licença terá início a partir do dia do parto.
- d) No caso de natimorto, decorridos 30 dias do evento, a servidora será submetida a exame médico e, se julgada apta, reassumirá o exercício.
- e) No caso de aborto atestado por médico oficial, a servidora terá direito a 20 dias de repouso remunerado.

22 - A exoneração de cargo efetivo poderá ocorrer mediante:

- a) Aposentadoria.
- b) Readaptação.
- c) Recondição.
- d) Pedido do servidor ou de ofício.
- e) Sentença judicial.

23 - As penalidades de advertência e de suspensão terão seus registros cancelados, após o decurso de:

- a) 2 (dois) e 3 (três) anos de efetivo exercício, respectivamente, se o servidor não houver, nesse período, praticado nova infração disciplinar.
- b) 3 (três) e 5 (cinco) anos de efetivo exercício, respectivamente, se o servidor não houver, nesse período, praticado nova infração disciplinar.
- c) 1 (hum) e 3 (três) anos de efetivo exercício, respectivamente, se o servidor não houver, nesse período, praticado nova infração disciplinar.
- d) 2 (dois) e 5 (cinco) anos de efetivo exercício, respectivamente, se o servidor não houver, nesse período, praticado nova infração disciplinar.
- e) 3 (três) e 6 (seis) anos de efetivo exercício, respectivamente, se o servidor não houver, nesse período, praticado nova infração disciplinar.

24 - Dentre as alternativas abaixo, assinale a que NÃO corresponde a formas de provimento de cargo público:

- a) Nomeação.
- b) Promoção.
- c) Ascensão.
- d) Readaptação.
- e) Reversão.

25 - A investidura do servidor em cargo de atribuições e responsabilidades compatíveis com a limitação que tenha sofrido em sua capacidade física ou mental verificada em inspeção médica representa

- a) reintegração.
- b) readaptação.
- c) aproveitamento.
- d) redistribuição.
- e) reversão.

**26** - O retorno à atividade de servidor aposentado configura

- a) reintegração.
- b) reversão.
- c) aproveitamento.
- d) redistribuição.
- e) readaptação.

**27** - O retorno do servidor estável ao cargo anteriormente ocupado em decorrência de inabilitação em estágio probatório em outro cargo, representa caso de:

- a) reintegração.
- b) readaptação.
- c) aproveitamento.
- d) recondução.
- e) redistribuição.

**28** - O servidor que fizer jus à Progressão por Capacitação Profissional será posicionado em:

- a) nível de capacitação anterior, no mesmo nível de classificação, em padrão de vencimento na mesma posição relativa à que ocupava anteriormente, mantida a distância entre o padrão que ocupava e o padrão inicial do novo nível de capacitação.
- b) nível de capacitação subsequente, no mesmo nível de classificação, em padrão de vencimento na mesma posição relativa à que ocupava anteriormente, mantida a distância entre o padrão que ocupava e o padrão inicial do novo nível de capacitação.
- c) nível de capacitação anterior, em outro nível de classificação, com diferente padrão de vencimento que ocupava, mantida a distância entre o padrão que ocupava e o padrão inicial do novo nível de capacitação.
- d) nível de capacitação subsequente, em outro nível de classificação, com padrão de vencimento na mesma posição relativa à que ocupava anteriormente, mantida a distância entre o padrão que ocupava e o padrão inicial do novo nível de capacitação.
- e) nível de capacitação anterior, em outro nível de classificação, com mesmo padrão de vencimento que ocupava, mantida a distância entre o padrão que ocupava e o padrão inicial do novo nível de capacitação.

**29** - A respeito da organização do quadro de pessoal marque a alternativa INCORRETA:

- a) Tem que seguir o princípio de dinâmica dos processos de pesquisa, de ensino, de extensão e de administração, e as competências específicas decorrentes.
- b) Está vinculado ao planejamento estratégico e ao desenvolvimento organizacional das instituições.
- c) impõe o direito à livre associação sindical.
- d) Representa garantia de programas de capacitação que contemplem a formação específica e a geral, nesta incluída a educação formal.
- e) Exige avaliação do desempenho funcional dos servidores, como processo pedagógico, realizada mediante critérios objetivos decorrentes das metas institucionais, referenciada no caráter coletivo do trabalho e nas expectativas dos usuários.

**30** - Nos termos do Decreto 1.171/94, em todos os órgãos e entidades da Administração Pública Federal direta, indireta autárquica e fundacional, ou em qualquer órgão ou entidade que exerça atribuições delegadas pelo poder público, deverá ser criada uma Comissão de Ética que terá diversas atribuições. Veja abaixo qual das alternativas não compreende atribuição dessa comissão:

- a) Orientar e aconselhar sobre a ética profissional do servidor, no tratamento com as pessoas e com o patrimônio público, competindo-lhe conhecer concretamente de imputação ou de procedimento susceptível de censura.
- b) Fornecer, aos organismos encarregados da execução do quadro de carreira dos servidores, os registros sobre sua conduta ética, para o efeito de instruir e fundamentar promoções e para todos os demais procedimentos próprios da carreira do servidor público.
- c) Aplicar pena de censura a servidor público.
- d) Aplicar pena de suspensão a servidor público.
- e) Comunicar imediatamente a seus superiores todo e qualquer ato ou fato contrário ao interesse público



## MATEMÁTICA

- 31** - Em uma locadora de veículos, sabe-se que a média aritmética de locação durante os meses de janeiro, fevereiro, março e abril foi de 100 carros. Se nos meses de janeiro, fevereiro e abril a média aritmética de locação foi de 120 carros, quantos carros foram locados no mês de março?
- a) 40.  
b) 20.  
c) 80.  
d) 30.  
e) 55.
- 32** - Antes de colocar uma roupa na vitrine de uma loja, o vendedor Mala Kias aumentou o preço da roupa em 15%. Maria, com uma boa conversa, conseguiu um desconto de 10% no preço da roupa da vitrine. Enfim, pelo preço da roupa que Maria comprou, quanto ficou o aumento da roupa sobre o preço original, antes de ir para vitrine?
- a) 6%.  
b) 1,5%.  
c) 1/5%.  
d) 5%.  
e) 3,5%
- 33** - Cinco professores corrigem 5.000 provas em quatro dias. No mesmo ritmo de trabalho, se o número de provas aumentar em 5%, quantos professores serão necessários para corrigir esse novo número de provas em três dias?
- a) 12.  
b) 7.  
c) 13.  
d) 5.  
e) 15.
- 34** - Três amigos resolvem produzir óleo de mamona. Para isso abrem uma empresa com um capital inicial de R\$ 5.000,00. Um deles investiu R\$ 2.500,00 na empresa e outro R\$ 1.250,00. Eles produziram óleo que enche um tanque de  $2^3 \times 10^6 \text{ cm}^3$  de volume. Como deve ser a partilha desse volume de óleo de mamona, em  $m^3$ , proporcionalmente ao investimento de cada um dos amigos na empresa?
- a)  $4m^3$ ,  $1m^3$  e  $3m^3$   
b)  $5m^3$ ;  $1,5m^3$  e  $1,5m^3$   
c)  $4m^3$ ,  $2m^3$  e  $2m^3$   
d)  $4m^3$ ,  $1m^3$  e  $1m^3$   
e)  $7m^3$ ;  $0,5m^3$  e  $2m^3$
- 35** - Usando o sistema de juros simples, Capitu aplicou R\$ 1.000,00 à taxa de 2% ao mês, durante 3 meses. No final deste período, Capitu fez uma retirada de R\$ 400,00 e aplicou o restante, ainda no sistema de juros simples, à taxa de 3% ao mês, durante 2 meses. Qual o montante obtido por Capitu ao final desses 5 meses?
- a) R\$ 596,60.  
b) R\$ 686,40.  
c) R\$ 636,90.  
d) R\$ 699,60.  
e) R\$ 669,90.

## CONHECIMENTOS ESPECÍFICOS

36 - De acordo com os dados abaixo e a partir do uso do Método PEPS, indique dentre as alternativas aquela que evidencia os valores do custo das mercadorias vendidas e do estoque final.

Evento	Quantidade	Valor Unitário
Saldo inicial	20	1,90
Compras	22	2,10
Compras	13	1,95
Vendas	25	3,70
Compras	10	2,05
Vendas	23	3,65

Assinale a alternativa correta:

- a) 92,05 e 90,60.
- b) 84,20 e 48,50.
- c) 90,60 e 92,05.
- d) 95,90 e 34,15.
- e) 84,20 e 92,05.

37 - Assinale a alternativa que indica qual a demonstração contábil deixou de ser obrigatória logo após o advento da Lei N° 11.638/2007.

- a) Demonstração do Fluxo de Caixa.
- b) Demonstração das Origens e Aplicações dos Recursos.
- c) Demonstração das Mutações do Patrimônio Líquido.
- d) Demonstração do Resultado do Exercício.
- e) Balanço Patrimonial.

38 - Assinale a opção que expressa a afirmativa FALSA em relação ao Princípio da Oportunidade.

- a) Como resultado da observância do Princípio da Oportunidade o registro compreende os elementos quantitativos e qualitativos, contemplando os aspectos físicos e monetários.
- b) O registro deve ensejar o reconhecimento universal das variações ocorridas no patrimônio da entidade, em um período de tempo determinado, base necessária para gerar informações úteis ao processo decisório da gestão.
- c) Desde que tecnicamente estimável, o registro das variações patrimoniais deve ser feito, mesmo na hipótese de somente existir razoável certeza de sua ocorrência.
- d) O princípio da oportunidade refere-se, simultaneamente, à tempestividade e à integridade do registro do patrimônio e das suas mutações, determinando que este seja feito de imediato e com a extensão correta, independentemente das causas que as originaram.
- e) A oportunidade influencia o valor econômico dos ativos e, em muitos casos, o valor ou vencimento dos passivos, especialmente quando a extinção da entidade tem prazo determinado, previsto ou previsível.

**39** - O Técnico em Contabilidade da Companhia X contabilizou as operações de encerramento do exercício de 2007, inclusive a provisão para pagamento do IR, quando verificou que não havia calculado as participações estatutárias de empregados e de diretores, previstas no Estatuto à alíquota de 7% para cada tipo.

A provisão para o IR foi calculada à alíquota de 25% do lucro real, tendo o lucro líquido o exercício, no valor de R\$ 48.000,00, sido creditado na conta Lucros (ou Prejuízos) Acumulados.

Após identificar e retificar o erro, contabilizando as participações estatutárias corretamente e recalculando o imposto, a provisão para o imposto de renda deverá ir a balanço com o novo saldo de:

- a) 16.000,00.
- b) 15.160,00.
- c) 13.225,00.
- d) 12.000,00.
- e) 15.000,00.

**40** - Em relação à Demonstração do Fluxo de Caixa assinale a alternativa INCORRETA:

- a) Essa demonstração, introduzida como obrigatória na Lei das S/A por força de modificação dada pela Lei nº. 11.638/07, está regulada pelo Pronunciamento Técnico CPC 03 aprovado e tornado obrigatório pela Deliberação CVM nº. 547/08, bem como pela Resolução CFC nº. 1.125/08, pela Circular SUSEP nº. 379/08 e também pela Resolução CMN nº. 3.604/08 (Conselho Monetário Nacional – Banco Central do Brasil).
- b) Sua obrigatoriedade começa para as demonstrações contábeis a partir do exercício social findo em 31 de dezembro de 2008.
- c) No exercício social de 2008 ela pode ser apresentada sem comparação com o exercício social precedente, a não ser que a entidade já a venha voluntariamente apresentando.
- d) Abrange exclusivamente fluxos efetivos de caixa, agrupados, obrigatoriamente, em atividades operacionais, de investimento e de financiamento.
- e) No caso das entidades reguladas pela SUSEP este regulador requer que seja adotado exclusivamente o método indireto.

**41** - A Estrutura Conceitual Básica da Contabilidade, segundo o Pronunciamento Técnico do Comitê de Pronunciamentos Contábeis – CPC, tem várias finalidades, EXCETO

- a) dar suporte ao desenvolvimento de novos Pronunciamentos Técnicos e à revisão de Pronunciamentos existentes quando necessário.
- b) dar suporte aos responsáveis pela elaboração das demonstrações contábeis na aplicação dos Pronunciamentos Técnicos e no tratamento de assuntos que ainda não tiverem sido objeto de Pronunciamentos Técnicos.
- c) fiscalizar os auditores independentes no intuito de verificar a conformidade das demonstrações contábeis com os Pronunciamentos Técnicos.
- d) apoiar os usuários das demonstrações contábeis na interpretação de informações nelas contidas, preparadas em conformidade com os Pronunciamentos Técnicos.
- e) proporcionar, àqueles interessados, informações sobre o enfoque adotado na formulação dos Pronunciamentos Técnicos.

42 - A empresa “Tomara que Dê Certo” dedica-se à prestação de serviços de assistência técnica de eletrodomésticos. Ela iniciou suas atividades em 01/01/X1 e, em 30/11/X1, apresentava os saldos das seguintes contas em seu Balancete de Verificação: Caixa 13.000,00; Bancos 1.000,00; Clientes 800,00; Receitas de Serviços 60.000,00; Despesas de Salários 30.000,00; Despesa de Aluguel 5.000,00; Despesas de Energia Elétrica 2.000; Salários a Pagar 2.000,00; Contas a Pagar 1.000,00; Receitas Financeiras 1.300,00; Veículos 32.000,00; Despesas Gerais 500,00; Capital 20.000,00.

As operações de dezembro foram as seguintes:

- I) Pagamento de salários 5.000,00;
- II) Serviços prestados ao cliente W, 60% efetivamente recebidos. O valor total dos serviços foi de 10.000,00;
- III) Os materiais adquiridos a vista e utilizados para serviços de reparos totalizaram 2.000,00;
- IV) As contas de energia elétrica de 500,00 referentes ao mês anterior, foram pagas nesta data;
- V) Depósito de 7.500,00 na conta da empresa, no Banco X.
- VI) Compra de 1.000,00 de materiais especiais para reparos, para estoque. A empresa emitiu para pagamento ao fornecedor;
- VII) Recebimento de 1.200,00 de diversos clientes;
- VIII) Compra a prazo de terrenos no valor de 50.000,00, mediante emissão de nota promissória com vencimento em 31/01/X3;
- IX) Aumento de capital social da empresa em 20.000,00, sendo que apenas 15.000,00 foram integralizados, da seguinte forma:  
5.000,00 em cheques e 10.000,00 em móveis e utensílios;
- X) As despesas de dezembro, pagas nesta data, referem-se a:  
aluguel – 500,00; energia elétrica – 800,00; salários – 500,00.

Com base nessas informações, o valor do Lucro do Exercício e o Total do Balanço são respectivamente:

- a) 28.000,00; 111.500,00.
- b) 26.000,00; 111.000,00.
- c) 24.000,00; 112.000,00.
- d) 27.000,00; 112.500,00.
- e) 29.000,00; 113.000,00.

43 - Analise a afirmativa a seguir e assinale a opção correta: “Para que o orçamento seja a expressão fiel do programa de governo é indispensável que obedeça a determinados princípios, que sejam [...]”:

- a) Programação; Unidade; Universalidade; Anualidade; Exclusividade; Clareza e Equilíbrio.
- b) Programação; Unidade; Universalidade; Anualidade; Exclusividade; Clareza.
- c) Programação; Unidade; Universalidade; Anualidade; Exclusividade.
- d) Elaboração; Estudo e Aprovação; Execução e Avaliação.
- e) Elaboração; Estudo e Aprovação; Execução.

44 - O montante de despesas empenhadas no exercício e NÃO pagas até 31 de dezembro é denominada:

- a) Gastos líquidos.
- b) Despesas ativadas e não pagas.
- c) Realização da despesa.
- d) Restos a pagar.
- e) Gastos efetivados.

**45** - Em relação às modalidades de licitação, assinale a assertiva correta.

- a) Concorrência é a modalidade de licitação entre quaisquer interessados que, na fase inicial de habilitação preliminar, comprovem possuir requisitos mínimos de qualificação exigidos no edital para execução de seu objeto.
- b) Tomada de preços é a modalidade de licitação entre quaisquer interessados para a escolha de trabalho técnico, científico, artístico, mediante a instituição de prêmios ou remuneração aos vendedores, conforme critérios constantes no edital publicado na imprensa oficial com antecedência mínima de 45 dias.
- c) Leilão é a modalidade de licitação entre interessados do ramo pertinente a seu objeto, cadastrados ou não, escolhidos e convidados em número mínimo de três.
- d) Concurso é a modalidade de licitação entre quaisquer interessados para a venda de bens móveis inservíveis para a Administração ou de produtos legalmente apreendidos ou penhorados.
- e) Convite é a modalidade de licitação entre interessados devidamente cadastrados ou que atenderem a todas as condições exigidas para cadastramento até o terceiro dia anterior à data de recebimento de propostas, observada a necessária qualificação.

**46** - No que se refere aos créditos adicionais, assinale a alternativa ERRADA.

- a) Classificam-se em suplementares, especiais e extraordinário.
- b) Os créditos suplementares são autorizados para cobertura de despesas eventuais ou essenciais e por isso mesmo não consideradas na Lei do Orçamento.
- c) Os créditos suplementares destinam-se ao reforço de dotações orçamentárias que, por qualquer motivo, tornaram-se insuficientes.
- d) Os créditos especiais são destinados a despesas para as quais não haja dotação orçamentária específica.
- e) Os créditos extraordinários são destinados a despesas urgentes e imprevisíveis.

**47** - Analise as assertivas abaixo e marque a alternativa INCORRETA.

- a) O ativo financeiro representa os bens numerários e os créditos, valores e pendências realizáveis em valores numéricos.
- b) O ativo financeiro representa a soma dos valores numéricos em Caixa, em poder de Bancos, analisados em contas de primeiro e segundo graus.
- c) A despesa orçamentária é debitada pela liquidação (realização) da despesa, em contrapartida com a conta despesa do exercício a pagar e, pela inscrição, dos restos a pagar de despesas não processadas, em contrapartida com a conta restos a pagar.
- d) As transferências financeiras representam valores transferidos do Sistema Financeiro para o Sistema Patrimonial e vice-versa.
- e) A receita orçamentária é debitada pelos recebimentos e recolhimentos em contrapartida com as contas do grupo disponível.

**48** - Analise o Balanço Orçamentário abaixo:

Balanço Orçamentário em 31.12.2007

Dessa forma o resultado da execução orçamentária é:	RECEITA ORÇAMENTÁRIA	PREVISÃO	EXECUÇÃO	DIFERENÇA
	Receitas Correntes			
	Receita Tributária	700,00	630,00	(70,00)
	Receita Patrimonial	385,00	305,00	(80,00)
	Receita de Serviços	272,00	280,00	8,00
	Transferências Correntes	2.450,00	2.122,00	(328,00)
	Receitas de Capital			
	Alienação de Bens	789,00	254,00	(535,00)
	Operações de Crédito	-	523,00	523,00
	Transferências de Capital	1.210,00	1.526,50	316,50
	Soma	?	?	?
	DESPESA ORÇAMENTÁRIA			
	Créditos Iniciais	5.418,50	5.195,50	(223,50)
	Créditos Adicionais	387,50	245,00	(142,50)
	Soma	5.806,00	5.440,50	(366,00)

49 - O Ativo Real de determinado ente público é R\$ 97.500,00, o Saldo Patrimonial Negativo é R\$ 21.450,00. O valor do Passivo Permanente, tendo em vista que ele corresponde ao dobro do Passivo Financeiro, é de:

- a) R\$ 118.950,00.
- b) R\$ 39.000,00.
- c) R\$ 39.650,00.
- d) R\$ 195.000,00.
- e) R\$ 79.300,00.

50 - A instituição pública "Que Vida Boa" em 22.03.2009, apropriou a folha de pagamento, referente ao mês de março, para pagamento até o quinto dia útil do mês seguinte, conforme discriminação a seguir:

Salários	R\$ 13.000,00.
Gratificações	R\$ 18.000,00.
Salário família (estatutário)	R\$ 650,00.
INSS	R\$ 4.200,00.
IRRF	R\$ 5.500,00.
Outros Consignatários	R\$ 900,00.
Líquido	R\$ 21.050,00.

Ao empenhar e liquidar as despesas expostas, têm-se os seguintes valores de Crédito Disponível, Crédito Empenhado e Crédito Liquidado:

- a) R\$ 10.600,00; R\$ 22.850,00 e R\$ 13.000,00.
- b) R\$ 18.650,00; R\$ 22.850,00 e R\$ 9.700,00.
- c) R\$ 18.650,00; R\$ 22.850,00 e R\$ 21.050,00.
- d) R\$ 18.650,00; R\$ 31.650,00 e R\$ 10.600,00.
- e) R\$ 10.600,00; R\$ 31.650,00 e R\$ 9.700,00.

TÉCNICO EM  
CONTABILIDADE

TÉCNICO EM  
CONTABILIDADE